



UNIVERSIDADE DE SÃO PAULO



ESCOLA SUPERIOR DE AGRICULTURA "LUIZ DE QUEIROZ"

DEPARTAMENTO DE ENGENHARIA DE BIODIVERSIDADE

LEB340 TOPOGRAFIA E GEOPROCESSAMENTO I

PROF. DR. CARLOS ALBERTO VETTORAZZI

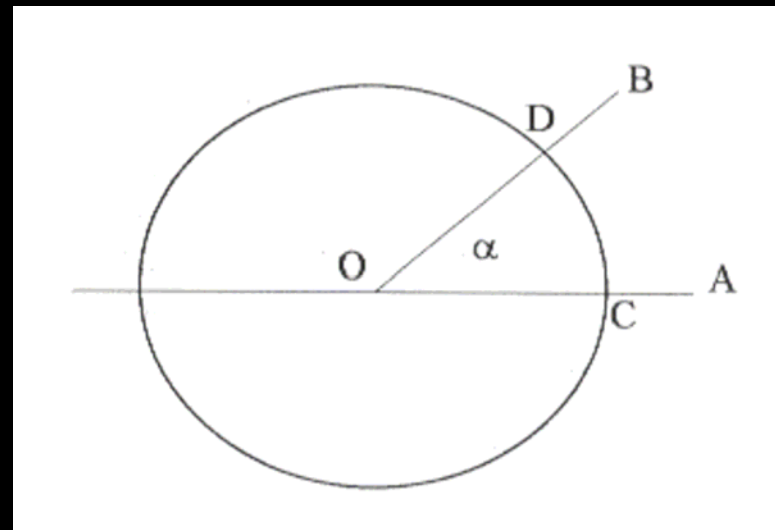
REVISÃO DE TRIGONOMETRIA E GEOMETRIA ANALÍTICA

1. TRIGONOMETRIA: TÓPICOS DE INTERESSE À TOPOGRAFIA

1.1. MEDIÇÃO DE ÂNGULOS

1.1.1. MEDIÇÃO SEXAGESIMAL

α é o ângulo formado pela rotação de uma semi-reta em torno de um ponto fixo (o vértice do ângulo)



Dividindo-se a rotação completa em 360 partes iguais, teremos 360 ângulos iguais, cada um deles denominado de grau e denotado 1° .

Cada grau é dividido em 60 minutos ($60'$).

Cada minuto é dividido em 60 segundos ($60''$).

O círculo é dividido em quatro (4) partes iguais chamadas quadrantes, cada um formando um ângulo reto (90°).

1.1.2. Medição Centesimal

Para tornar o sistema de medida de ângulos coerente com outras medidas métricas, decidiu-se dividir o ângulo reto em 100 partes iguais e, conseqüentemente, o círculo inteiro em 400 partes.

Os ângulos assim obtidos foram chamados de grados (grd).

1 ângulo reto = 100 grados

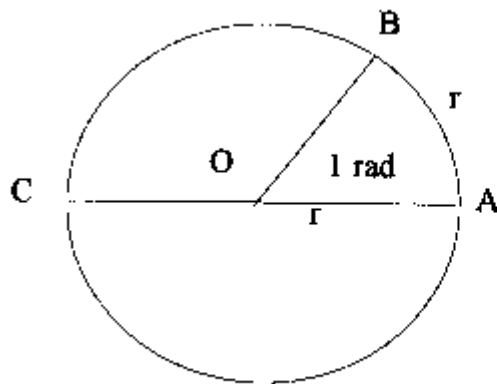
1 grado = 100 minutos

1 minuto = 100 segundos

1.1.3. Medição circular

É um método absoluto, pois independe da divisão de um ângulo reto em qualquer número arbitrário de partes, 90 ou 100.

A unidade é obtida da seguinte maneira: em um círculo de centro O , fazemos com que um raio OA gire para a posição OB , de forma que o comprimento do arco AB seja igual ao comprimento do raio.



radiano = rad

Fazendo-se isso, forma-se o ângulo $A\hat{O}B$, cuja unidade de medida é chamada radiano. O tamanho do ângulo será o mesmo, qualquer que seja o raio tomado. Sua magnitude é absoluta.

Convertendo-se ao sistema sexagesimal, temos que 1 radiano é aproximadamente igual a $57^\circ 17' 44,8''$.

TEOREMA: “A razão entre a circunferência de um círculo e seu diâmetro é fixa para todos os círculos”

Circunferência/diâmetro = constante = π = aprox. 3,1416

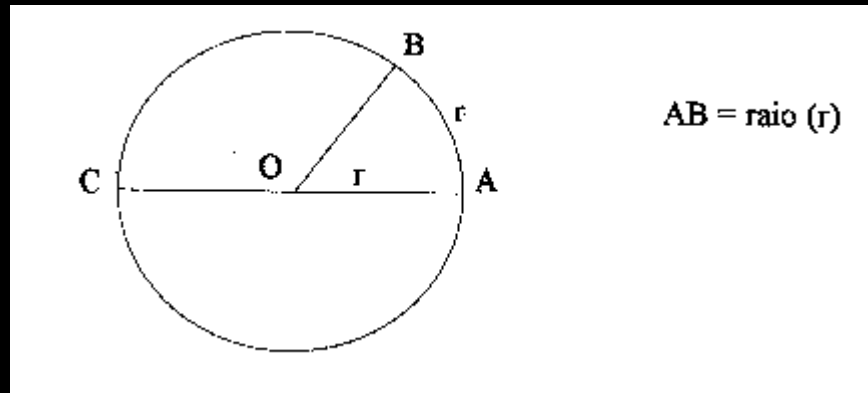
Portanto: circunferência = π . Diâmetro

Ou: $c = 2 \pi r$

“Um radiano é o ângulo subtendido ao centro de um círculo por um arco de comprimento igual ao seu raio”

Circunferência = π . Diâmetro

Arco semicircular = π . Raio



O arco do semicírculo ABC subtende dois ângulos retos e o arco AB subtende 1 radiano. Como o arco do semicírculo é π vezes o arco AB , o ângulo subtendido pelo arco de semicírculo é π vezes o ângulo subtendido pelo arco AB (“Os ângulos ao centro de um círculo são proporcionais aos arcos pelos quais são subtendidos”).

Isto é:

Dois ângulos retos = π rad

$$180^\circ = \pi \text{ rad}$$

Portanto: $1 \text{ rad} = 180^\circ / \pi = \text{aprox. } 57^\circ 17' 45''$

OBS: Conversão de graus em radianos

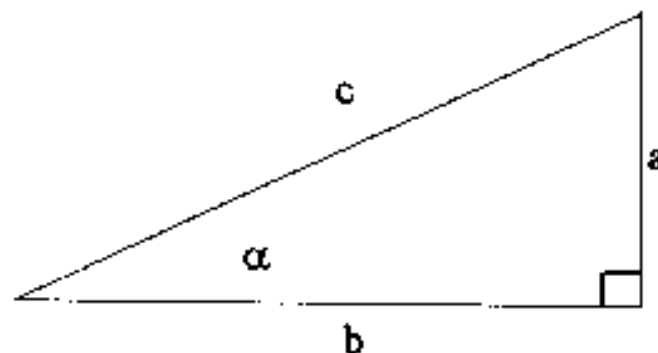
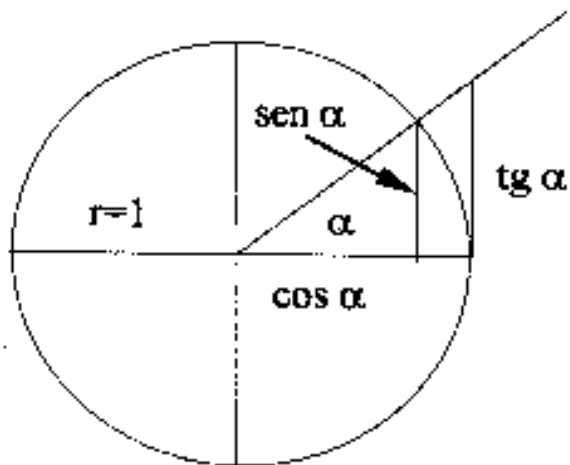
$$180^\circ = \pi \text{ rad}$$

Portanto: $1^\circ = \pi / 180 \text{ rad}$

e

$$\theta^\circ = (\theta \cdot \pi / 180) \text{ rad}$$

1.2. AS FUNÇÕES TRIGONÔMÉTRICAS



$$\text{sen } \alpha = a/c$$

$$\text{cos } \alpha = b/c$$

$$\text{tg } \alpha = a/b$$

$$\text{cosec } \alpha = 1/\text{sen } \alpha$$

$$\text{sec } \alpha = 1/\text{cos } \alpha$$

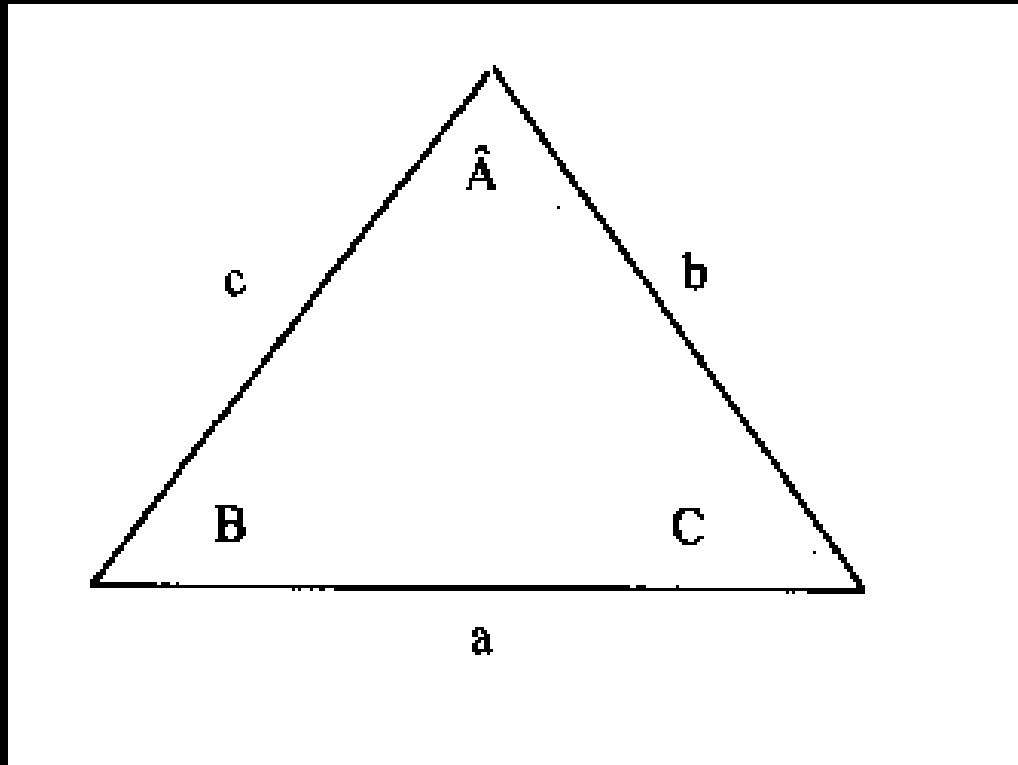
$$\text{cotg } \alpha = 1/\text{tg } \alpha$$

EXEMPLO DE APLICAÇÃO

Em um ponto (O), distante horizontalmente 160 m da base de uma torre, o ângulo de elevação (α) para o topo da torre é $40^\circ 20'$.

Determinar a altura da torre, em relação ao nível do solo.

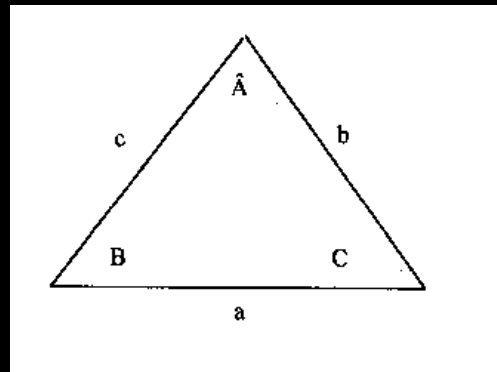
1.3. RELAÇÕES ENTRE LADOS E ÂNGULOS DE UM TRIÂNGULO



1.3.1. Lei dos Senos

“Em qualquer triângulo, os lados são proporcionais aos senos dos ângulos opostos”

$$\frac{\text{sen}A}{a} = \frac{\text{sen}B}{b} = \frac{\text{sen}C}{c}$$



1.3.2. Lei dos Cossenos

Determinação dos ângulos de um triângulo quando todos os seus lados são conhecidos

$$\cos A = \frac{b^2 + c^2 - a^2}{2bc}$$

Determinação do terceiro lado de um triângulo, quando dois lados e o ângulo contido por eles forem conhecidos

$$a^2 = b^2 + c^2 - 2bc \cdot \cos A$$

1.3.3. Seno de um ângulo de um triângulo em termos dos lados

$$\text{sen}A = \frac{2}{bc} \sqrt{s(s-a)(s-b)(s-c)}$$

Em que:

$$s = \text{semi-perímetro} = \frac{a+b+c}{2}$$

1.4. RESOLUÇÃO DE TRIÂNGULOS

Um triângulo pode ser resolvido quando são dados os seguintes elementos:

Caso 1: três lados

Caso 2: dois ângulos e um lado

Caso 3: dois lados e o ângulo formado por eles

Caso 4: dois lados e um ângulo oposto a um deles

Os três primeiros casos são os mais importantes para a Topografia, portanto iremos tratar apenas deles.

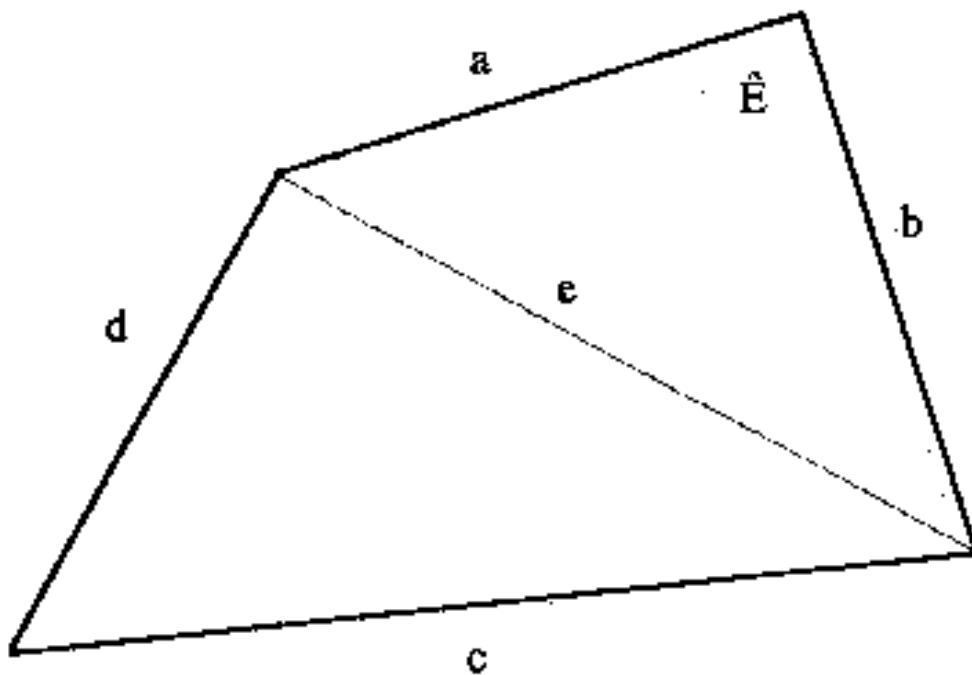
1.4.1. Caso 1: Resolução de um triângulo quando os três lados são conhecidos

Resolução por meio da Lei dos Cossenos

$$\cos A = \frac{b^2 + c^2 - a^2}{2bc}$$

e similarmente, $\cos B$ e $\cos C$.

Exemplo de aplicação: Levantamento à trena



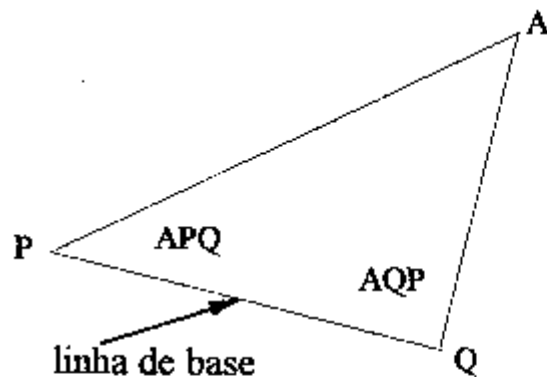
$$\cos E = \frac{a^2 + b^2 - e^2}{2ab}$$

1.4.2. Caso 2: Dados dois ângulos e um dos lados do triângulo

Resolução por meio da Lei dos Senos

Obs.: Se dois ângulos são conhecidos o terceiro também o será, já que a soma dos ângulos internos de um triângulo deve ser 180° .

Exemplo de aplicação: Determinação da distância a um objeto, ou ponto no terreno, inacessível ou de difícil acesso.



$AP = ?$

Demarca-se a linha PQ;
Em P : mede-se APQ
Em Q : mede-se AQP

Assim, no triângulo APQ : PQ é conhecido
APQ e AQP são conhecidos

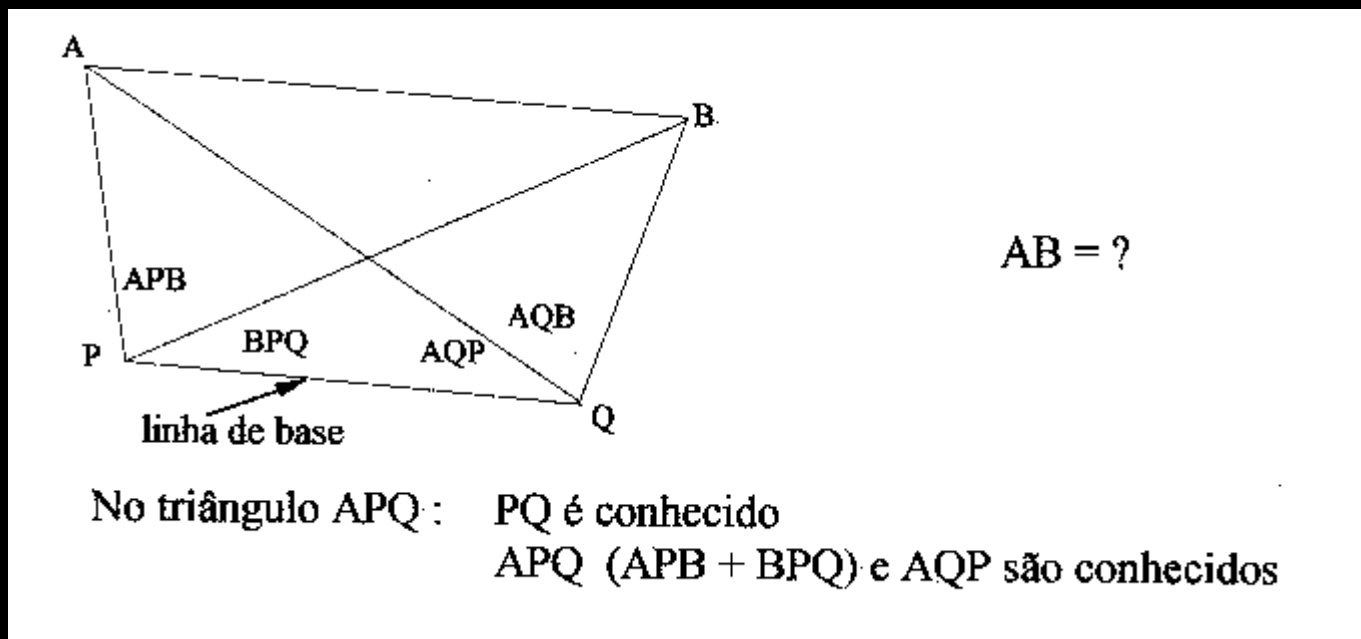
Logo:

$$\frac{PQ}{\text{sen}[180^{\circ} - (APQ + AQP)]} = \frac{AP}{\text{sen}AQP}$$

1.4.3. Caso 3: Dados dois lados e o ângulo formado por eles

Resolução por meio da Lei dos Senos e da Lei dos Cossenos.

Exemplo de aplicação: Determinação da distância entre dois pontos visíveis, mas inacessíveis.



Pela Lei dos Senos: $\frac{PQ}{\text{sen}[180^\circ - (APQ + AQP)]} = \frac{AQ}{\text{sen}APQ}$

\therefore AQ é determinado.

Analogamente o triângulo BPQ pode ser resolvido e QB determinado. Então, no triângulo AQB:

AQ é conhecido

QB é conhecido

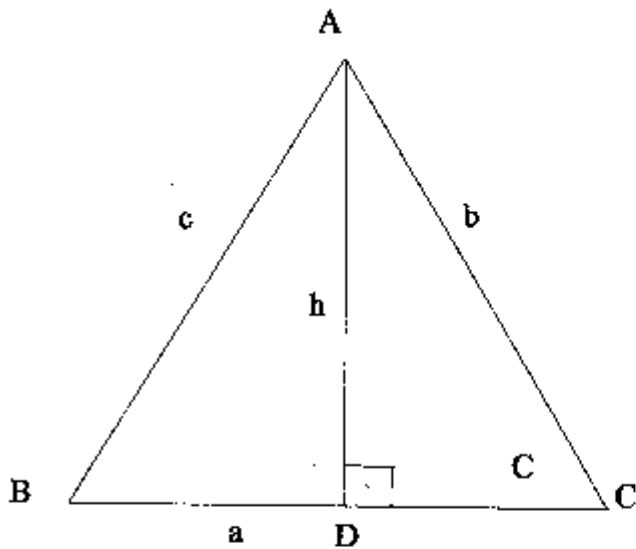
AQB é conhecido

Portanto, o lado AB, no triângulo AQB, pode ser determinado agora pela Lei dos Cossenos:

$$AB^2 = AQ^2 + QB^2 - 2 \cdot AQ \cdot QB \cdot \cos AQB$$

1.5. ÁREA DE UM TRIÂNGULO

1.5.1. Fórmula da base e da altura (da geometria elementar)



Sejam $AD = h$ e
 $\Delta = \text{área do triângulo ABC}$

$$\Delta = 1/2 BC \cdot AD$$

ou

$$\Delta = 1/2 a \cdot h$$

Normalmente, na Topografia, h não é medido diretamente no campo, daí a conveniência de se empregarem outros métodos no cálculo da área do triângulo, como será visto a seguir.

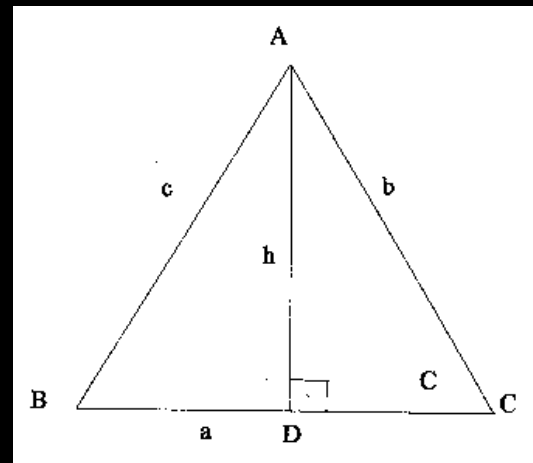
1.5.2. Fórmula do seno

Pela observação da figura:

$$AD / AC = \text{sen } C$$

ou

$$h / b = \text{sen } C$$



Portanto, $h = b \text{ sen } C$

Substituindo-se h na fórmula da geometria elementar:

$$\Delta = 1/2 a.h \quad \therefore \Delta = 1/2 a.b.\text{sen } C$$

Analogamente podem ser utilizados os outros lados como bases.

Logo:

“A área de um triângulo é igual à metade do produto de dois lados e do seno do ângulo contido por eles.”

1.5.3. Área em termos dos lados do triângulo

$$\text{sen}A = \frac{2}{bc} \sqrt{s(s-a)(s-b)(s-c)}$$

Substituindo-se em : $\Delta = 1/2 \text{ b.c.sen } \hat{A}$

$$\Delta = \frac{1}{2} bc \frac{2}{bc} \sqrt{s(s-a)(s-b)(s-c)}$$

$\Delta = \sqrt{s(s-a)(s-b)(s-c)}$, que é a Fórmula de Héron, ou do Semi-perímetro.

EXERCÍCIOS

1. Dois lados adjacentes de um retângulo têm 15,8 cm e 11,9 cm. Determine os ângulos que a diagonal do retângulo faz com ambos os lados.

Resp.: $36^{\circ} 59'$ e $53^{\circ} 01'$ (aprox.)

2. Uma rampa uniforme sobe 10,5 km em um trecho de 60,0 km de comprimento (distância inclinada).

Determine o ângulo entre a rampa e a horizontal.

Resp.: $10^{\circ} 04' 43''$

3. Em um triângulo retângulo, os lados que contêm o ângulo reto (catetos) têm 4,5 m e 5,8 m.

Determine os ângulos e o comprimento da hipotenusa.

Resp.: $37^\circ 48' 24''$; $52^\circ 11' 36''$; 7,314 m.

4. Em um triângulo de lados a, b e c:

4.1. Quando $\hat{A} = 54^\circ 00'$; $\hat{B} = 67^\circ 00'$; e $a = 13,9$ m, determine b e c.

Resp.: $b = 15,815$ m e $c = 14,727$ m.

4.2. Quando $\hat{A} = 38^\circ 15'$; $B = 29^\circ 38'$; e $b = 16,2$ m, determine a e c .

Resp.: $a = 20,284$ m e $c = 30,353$ m.

5. Determine os ângulos do triângulo cujos lados são: $a = 8,0$ m; $b = 9,0$ m; e $c = 12,0$ m.

Resp.: $\hat{A} = 41^\circ 48' 35''$; $B = 48^\circ 35' 20''$; $C = 89^\circ 36' 07''$

6. Em um triângulo: $\hat{A} = 75^\circ 12'$; $b = 43,0$ m; e $c = 35,0$ m.

Determine os ângulos B e C .

Resp.: $B = 59^\circ 59'$ e $C = 44^\circ 49'$ (aprox.)

7. Determine a área de um triângulo quando $a = 6.2\text{m}$; $b = 7,8 \text{ m}$ e $C = 52^\circ 00'$.

Resp.: $19,054 \text{ m}^2$.

8. Determine a área de um triângulo cujos lados têm: $325,0\text{m}$; $256,0\text{m}$; e $189,0\text{m}$.

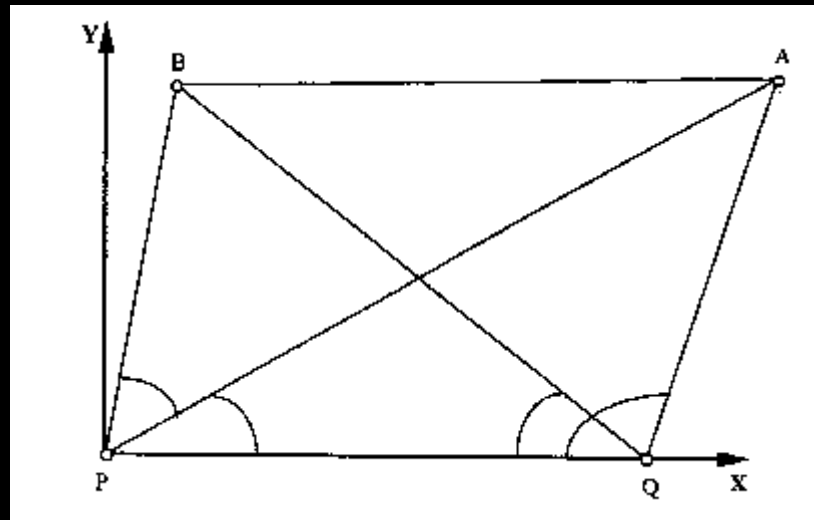
Resp.: $24.167,342 \text{ m}^2 = 2,417 \text{ ha} = 0,999 \text{ alq. Paul.}$ (Obs.: 1 alqueire paulista = 24.200 m^2).

9. Em um levantamento topográfico, conforme croqui a seguir, foram obtidos os seguintes valores:

a) $PQ = 200,0\text{m}$ (linha de base);

b) A partir do ponto P: $BPA = 40^\circ 58'$; $APQ = 38^\circ 40'$

c) A partir do ponto Q: $BQP = 29^\circ 30'$; $AQP = 108^\circ 20'$

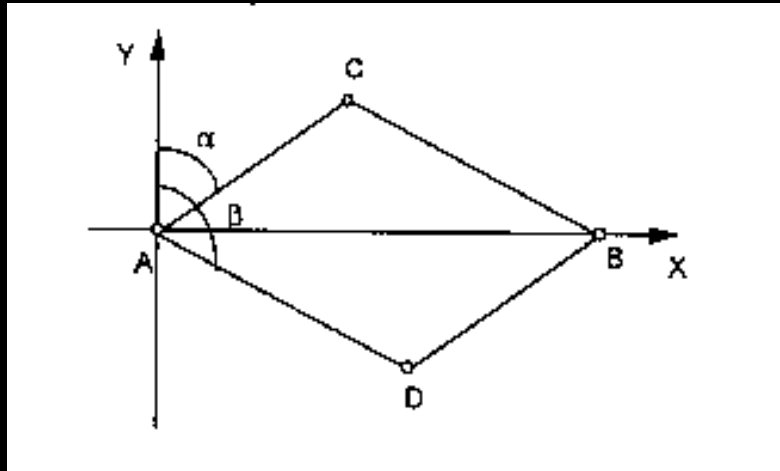


Determinar o comprimento de AB.

Resp.: 278,383 m.

10. Um terreno em forma de paralelogramo foi levantado conforme croqui a seguir, obtendo-se os seguintes dados:

a) $AB = 60,0\text{m}$; b) $\alpha = 60^\circ 30' 15''$; e $\beta = 129^\circ 25' 20''$.



Determinar:

1) O perímetro do polígono.

Resp.: 144,991 m.

2) A área do polígono ACBD, pelo método de Herón

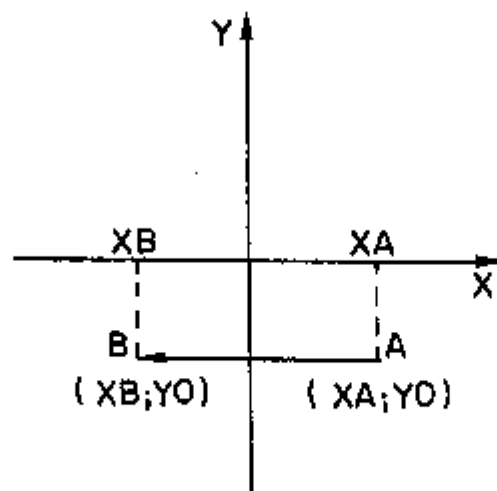
Resp.: 1206,330 m².

2. TÓPICOS DE GEOMETRIA ANALÍTICA

- Geometria analítica refere-se ao estudo de figuras geométricas usando princípios algébricos.
- O gráfico de $\mathbb{R} \times \mathbb{R}$ é chamado de plano de coordenadas cartesianas. Graficamente, ele consiste de um par de linhas perpendiculares chamada de eixos de coordenadas, e o plano onde eles estão. O eixo vertical é o eixo Y (eixo das ordenadas) e o eixo horizontal é o eixo X (eixo das abscissas). O ponto de interseção destes dois eixos é chamado de origem. O plano é dividido em 4 regiões pelo plano de coordenadas. Estas regiões são numeradas de I até IV começando na região onde os valores de X e Y são positivos e então seguindo o sentido anti-horário.

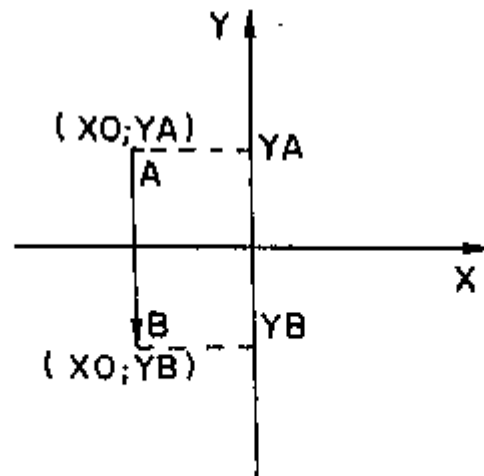
- A distância de um segmento de reta horizontal é a coordenada X do segundo ponto menos a coordenada X do primeiro

$$d = X_B - X_A$$



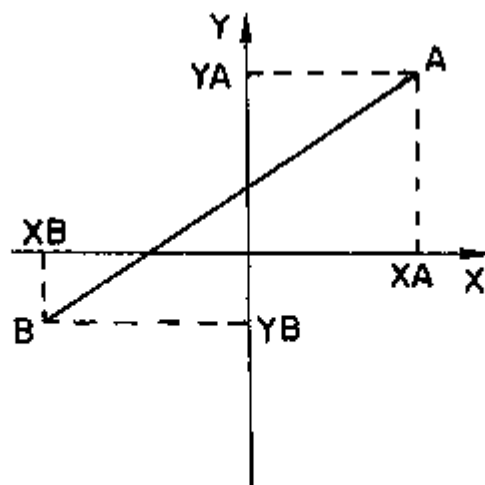
- A distância de um segmento de reta vertical é a coordenada Y do segundo ponto menos a coordenada Y do primeiro

$$d = Y_B - Y_A$$



- *Teorema 1*: para dois pontos quaisquer A e B com coordenadas $(X_A; Y_A)$ e $(X_B; Y_B)$ respectivamente, a distância entre A e B é:

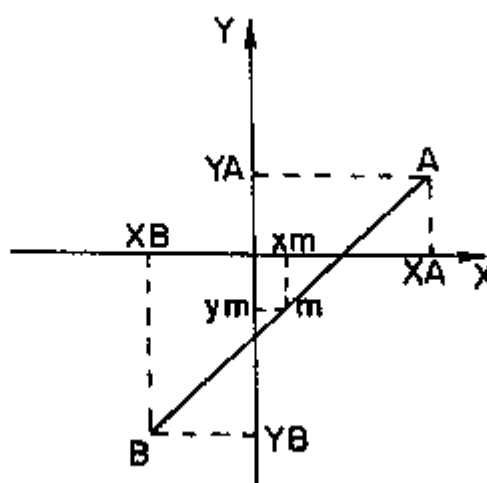
$$d = \sqrt{(X_A - X_B)^2 + (Y_A - Y_B)^2}$$



- *Teorema 2*: dado o segmento de reta com extremidades $(X_A; Y_A)$ e $(X_B; Y_B)$, as coordenadas do ponto médio do segmento de reta são $(X_m; Y_m)$

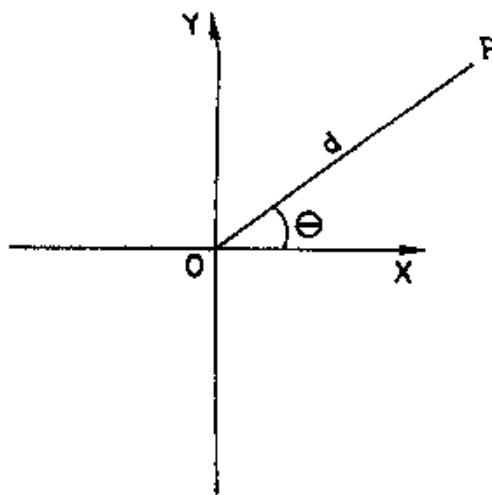
onde:

$$X_m = \frac{X_A + X_B}{2}; \quad Y_m = \frac{Y_A + Y_B}{2}$$



3. COORDENADAS POLARES

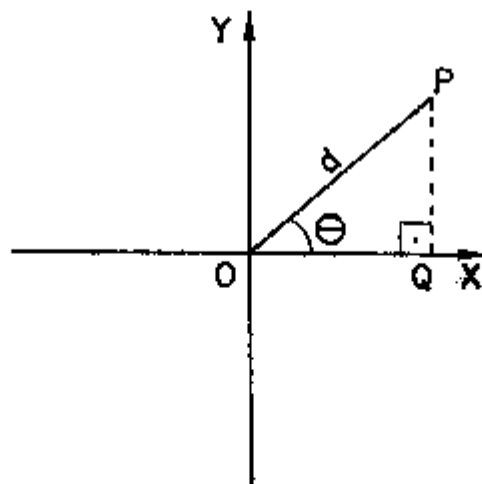
- Um ponto pode ser caracterizado pelas suas coordenadas cartesianas (como já visto) ou pelas suas coordenadas polares, ou seja, dado um sistema de 2 eixos perpendiculares, concorrentes em O (ponto polar) um ponto P qualquer pode ser caracterizado pela distância OP e pelo ângulo que esse segmento de reta faz com o eixo X.



3.1. Transformação de coordenadas polares em cartesianas

$$\text{sen } \theta = PQ / OP \implies \text{sen } \theta = y / d \implies y = d \text{ sen } \theta$$

$$\text{cos } \theta = OQ / OP \implies \text{cos } \theta = x / d \implies x = d \text{ cos } \theta$$



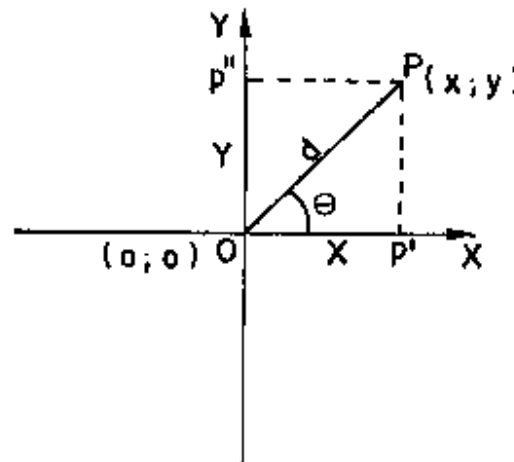
3.2. Transformação de coordenadas cartesianas em polares

- Pelo Teorema de Pitágoras calculamos d :

$$d = \sqrt{x^2 + y^2}$$

- Pelo arco tangente calculamos θ :

$$\operatorname{tg} \theta = y / x \implies \operatorname{arc} \operatorname{tg} (x / y) = \theta$$



4. CÁLCULO DE ÁREA PELO MÉTODO DAS COORDENADAS (GAUSS)

Seja uma polígono fechada de vértices 1 (x_1, y_1); 2 (x_2, y_2); ...
n (x_n, y_n) e S a área dessa polígono:

$$2S = \begin{vmatrix} X_1 & X_2 & X_3 & \dots & X_{n-1} & X_n & X_1 \\ Y_1 & Y_2 & Y_3 & & Y_{n-1} & Y_n & Y_1 \end{vmatrix} \begin{matrix} + \\ - \\ + \\ - \\ + \\ - \\ + \end{matrix}$$

EXERCÍCIOS

1) Represente graficamente, no plano cartesiano, o polígono cujas coordenadas dos vértices são:

A (-3; 2)

D (5; 0)

B (1; 3)

E (2;-3)

C (3; 5)

F (0;-2)

****OBS:** a) unidade de medida linear = metro; b) empregar escala 1:100

2) Calcular, pelo método das coordenadas (GAUSS), a área do polígono a que se refere o exercício anterior.

$$\mathbf{R: A = 32,5 m^2}$$

3) Ainda com relação ao mesmo polígono, unindo-se através de uma linha os vértices A e D, qual o valor do ângulo agudo (α) formado entre AD e o eixo das abscissas? Qual o comprimento de AD?

R: $\alpha = 14^{\circ}02'10''$; AD = 8,246 m

4) As coordenadas polares dos vértices de um triângulo são:

A (4,243m; $45^{\circ}00'00''$)

B (7,616m; $23^{\circ}11'55''$)

C (5,000m; $00^{\circ}00'00''$)

Calcular as respectivas coordenadas retangulares (ou cartesianas)

R: A (3,000m; 3,000m); B (7,000m; 3,000m); C (5,000m; 0,000m)